

Выберите правильный ответ и соответствующий ему номер напишите в желтое поле.

Тема 1: Номерабирабель

Вопрос 1 У телефонного аппарата только один номерабирабель. Каким он должен быть, если в ТА используется метод передачи адресной информации импульсами постоянного тока?

1. Дисковым
2. Кнопочным (сенсорным)
3. Может быть любым

Ответ:

Тема 2: Взаимодействие ТА и коммутационного центра

Вопрос 1: Посылка вызывного сигнала от КЦ к ТА абонента передается:

1. Через абонентскую линию абонента А
2. Через абонентскую линию абонента Б
3. Через абонентские линии абонентов А и Б

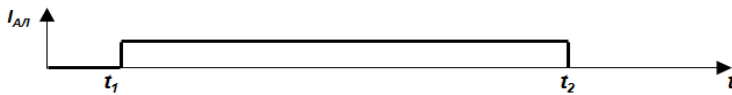
Ответ:

Вопрос 2: Посылка сигнала контроль посылки вызова (КПВ) от КЦ к ТА абонента передается:

1. Через абонентскую линию абонента А
2. Через абонентскую линию абонента Б
3. Через абонентские линии абонентов А и Б

Ответ:

Вопрос 3: Приведена временная диаграмма тока через абонентскую линию абонента А

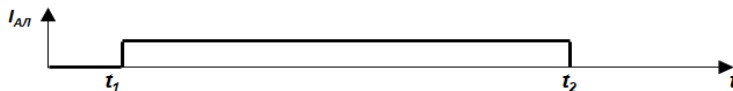


Что произошло в момент времени t_1 ?

1. Абонент Б снял трубку (вызов от абонента Б).
2. Началась посылка вызова от КЦ к ТА абонента А
3. Началась посылка вызова от КЦ к ТА абонента Б.
4. Закончилась посылка вызова от КЦ к ТА абонента А
5. Закончилась посылка вызова от КЦ к ТА абонента Б.
6. Абонент А снял трубку (вызов от абонента А).
7. Абонент Б снял трубку (ответ абонента Б).
8. Абонент А повесил трубку (отбой абонента А).
9. Абонент Б повесил трубку (отбой абонента Б).

Ответ:

Вопрос 4: Приведена временная диаграмма тока через абонентскую линию абонента Б



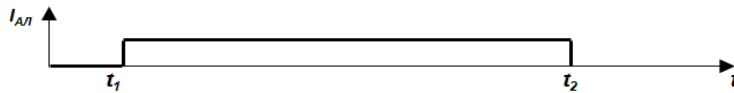
Что произошло в момент времени t_1 ?

1. Абонент А снял трубку (вызов от абонента А).
2. Абонент Б снял трубку (вызов от абонента Б).
3. Началась посылка вызова от КЦ к ТА абонента А
4. Началась посылка вызова от КЦ к ТА абонента Б.
5. Закончилась посылка вызова от КЦ к ТА абонента А
6. Закончилась посылка вызова от КЦ к ТА абонента Б.
7. Абонент А снял трубку (ответ абонента А).
8. Абонент Б снял трубку (ответ абонента Б).

9. Абонент А повесил трубку (отбой абонента А).
10. Абонент Б повесил трубку (отбой абонента Б).

Ответ:

Вопрос 5: Приведена временная диаграмма тока через абонентскую линию абонента А

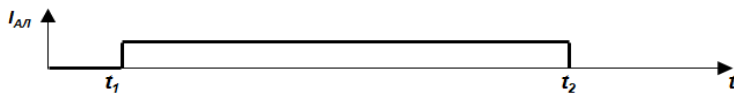


Что произошло в момент времени t_2 ?

1. Абонент А снял трубку (вызов от абонента А).
2. Абонент Б снял трубку (вызов от абонента Б).
3. Началась посылка вызова от КЦ к ТА абонента А
4. Началась посылка вызова от КЦ к ТА абонента Б.
5. Закончилась посылка вызова от КЦ к ТА абонента А
6. Закончилась посылка вызова от КЦ к ТА абонента Б.
7. Абонент А снял трубку (ответ абонента А).
8. Абонент Б снял трубку (ответ абонента Б).
9. Абонент А повесил трубку (отбой абонента А).
10. Абонент Б повесил трубку (отбой абонента Б).

Ответ:

Вопрос 6: Приведена временная диаграмма тока через абонентскую линию абонента Б



Что произошло в момент времени t_2 ?

1. Абонент А снял трубку (вызов от абонента А).
2. Абонент Б снял трубку (вызов от абонента Б).
3. Началась посылка вызова от КЦ к ТА абонента А
4. Началась посылка вызова от КЦ к ТА абонента Б.
5. Закончилась посылка вызова от КЦ к ТА абонента А
6. Закончилась посылка вызова от КЦ к ТА абонента Б.
7. Абонент А снял трубку (ответ абонента А).
8. Абонент Б снял трубку (ответ абонента Б).
9. Абонент А повесил трубку (отбой абонента А).
10. Абонент Б повесил трубку (отбой абонента Б).

Ответ:

Вопрос 7: На каком из рисунков правильно приведена временная диаграмма, иллюстрирующая принцип передачи индукторного вызывного сигнала, (местное соединение):?


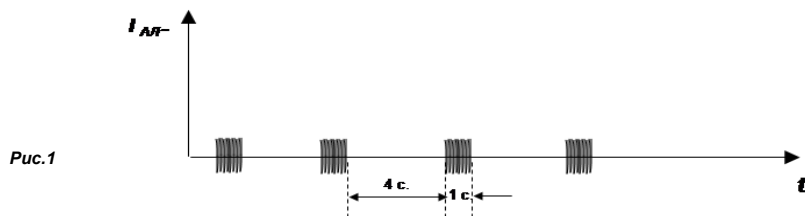
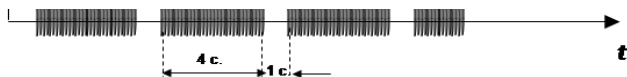


Рис.3



1. Рис. 1
2. Рис. 2
3. Рис. 3

Ответ:

Тема 3: Импульсный набор

Вопрос 1: Скорость передачи одной серии импульсами постоянного тока (число переданных импульсов за единицу времени):

1. 10 импульсов в минуту
2. 100 импульсов в минуту
3. 10 импульсов в секунду
4. 100 импульсов в секунду
5. 10 импульсов в миллисекунду

Ответ:

Вопрос 2: Период следования импульсов постоянного тока:

1. 1 с.
2. 1 мс.
3. 0,1 мс.
4. 10 мс.
5. 100 мс.

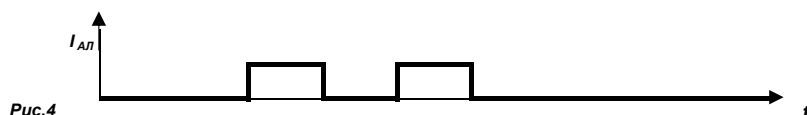
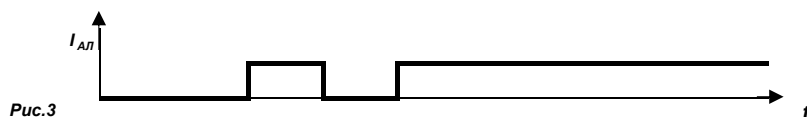
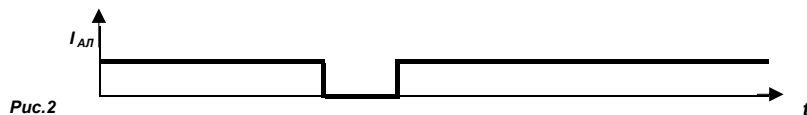
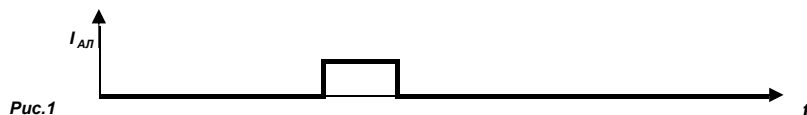
Ответ:

Вопрос 3: Что такое импульсный коэффициент?

1. Частное от деления числа посланных импульсов к числу принятых
2. Частное от деления числа импульсов в серии на число серий
3. Частное от деления длительности бестокового промежутка времени на длительность токового промежутка в серии импульсов
4. Частное от деления длительности промежутка между сериями импульсов на длительность одной серии импульсов

Ответ:


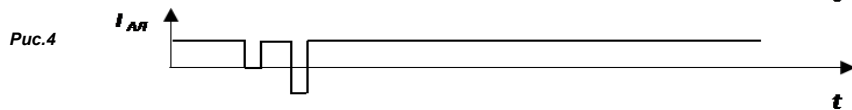
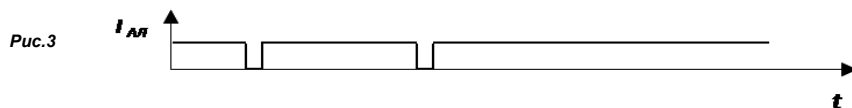
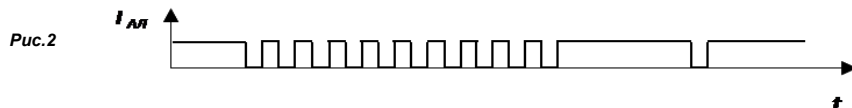
Вопрос 4: На какой из временной диаграмм правильно показан процесс передачи цифры 1 при передаче адресной информации на участке абонентской линии импульсами постоянного тока (моменты занятия и освобождения абонентской линии на диаграмме не указываются!)?



1. Рис. 1
2. Рис. 2
3. Рис. 3
4. Рис. 4

Ответ:

Вопрос 5: На какой из временной диаграмм правильно показан процесс передачи номера **11** при передаче адресной информации на участке абонентской линии импульсами постоянного тока (моменты занятия и освобождения абонентской линии на диаграмме не указываются!)?



1. Рис. 1
2. Рис. 2
3. Рис. 3
4. Рис. 4
5. Рис. 5

Ответ:

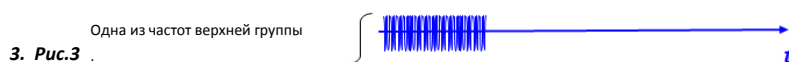
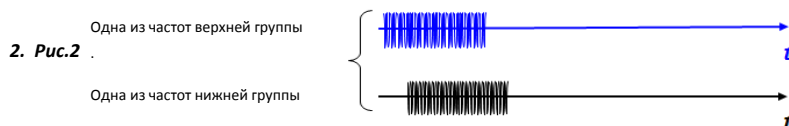
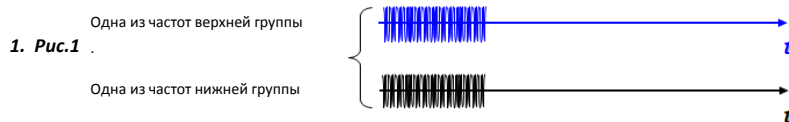
Тема 4: DTMF

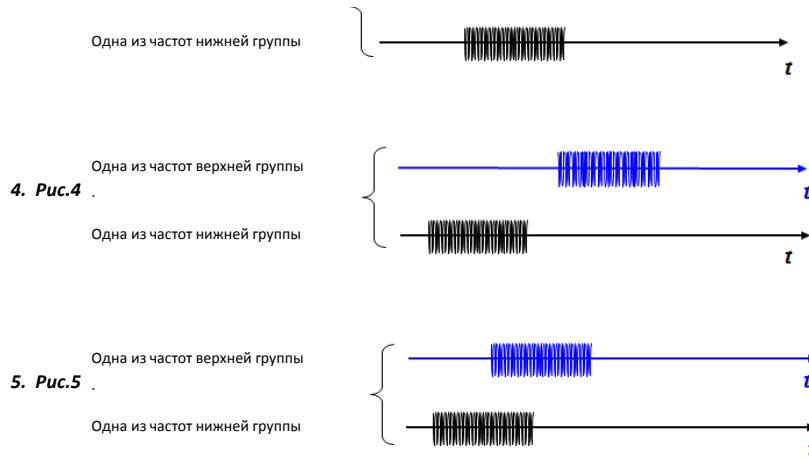
Вопрос 1: В какой полосе частот находятся частоты, используемые в коде DTMF?

1. Ниже 300 Гц
2. Выше 3400 Гц
3. Ниже 300 Гц (нижняя группа частот) и выше 3400 Гц (верхняя группа частот)
4. В диапазоне от 300 до 3400 Гц

Ответ:

Вопрос 2: На какой из временной диаграмм правильно показан процесс передачи одного символа кодом DTMF?





Ответ:

Вопрос 3: Каково номинальное значение длительности передачи одной двухчастотной комбинации кода DTMF?

1. 40 мин
2. 40 с.
3. 40 мс.
4. 40 мкс
5. Может быть любым

Ответ:

Вопрос 4: Каким должен быть минимальный промежуток между двумя двухчастотными посылками кода DTMF?

1. 25 мкс
2. 25 мс.
3. 25 с.
4. 25 мин
5. Может быть любым

Ответ:

Вопрос 5: Сколько времени (минимально) потребуется для передачи пятизначного номера кодом DTMF?

1. 300 мс
2. 325 мс
3. 200 мс
4. 325 мкс
5. 300 мкс

Ответ:

Вопрос 6: Сколько времени в среднем потребуется для передачи пятизначного номера кодом DTMF при наборе номера абонентом вручную (без использования "записной книжки" телефонного аппарата)?

1. 2 - 3 с
2. 2 - 3 мс
3. 2 - 3 мкс
4. 0,5 с
5. 0,2 мс

Ответ:

Число ответов

Число правильных ответов